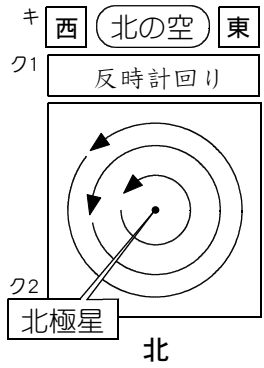
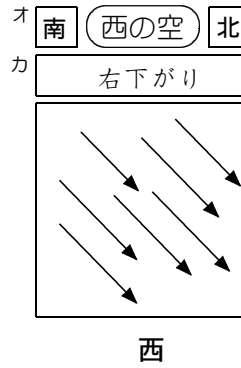
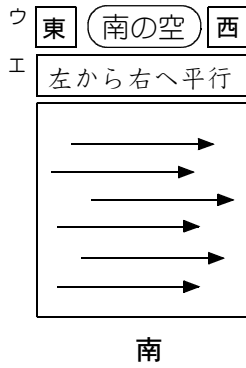
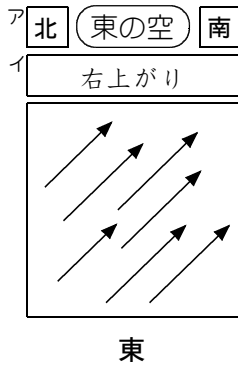


# 星の動き

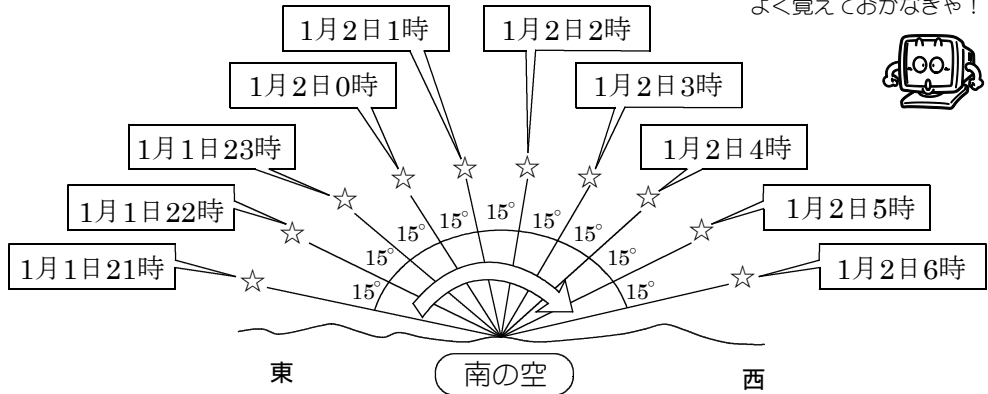


星は東から西に1時間に $15^\circ$  動くように見える。

ケ

コ 南の空は時計回りに動く

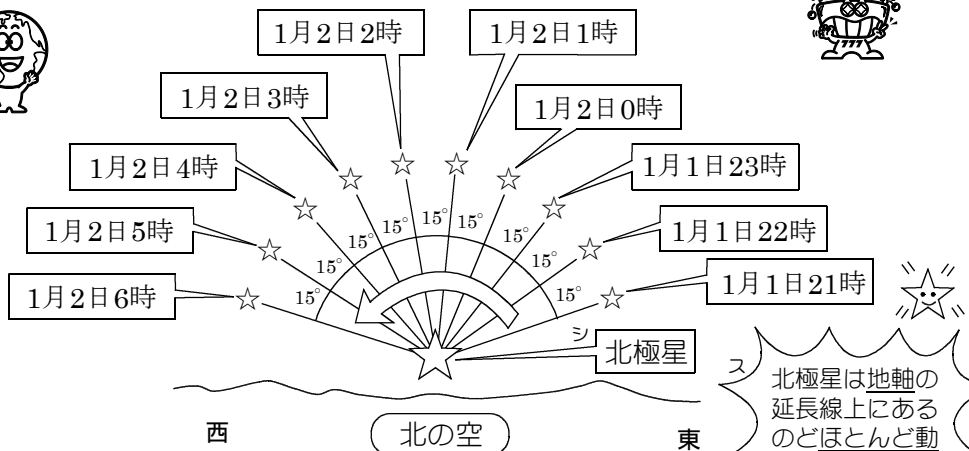
南の空は時計回りか！  
なるほどなるほど…。  
よく覚えておかなきゃ！



北の空は反時計回りだよ！  
しっかり区別しましょう！  
よく間違えま〜す！

サ 北の空は反時計回りに動く

ミスリそうでこわいよ〜。



ス 北極星は地軸の  
延長線上にある  
のどほとんど動  
かない！