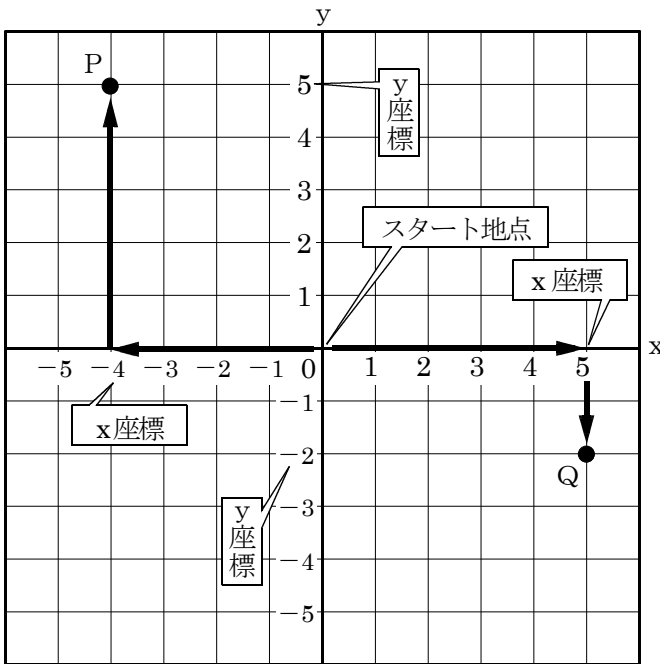
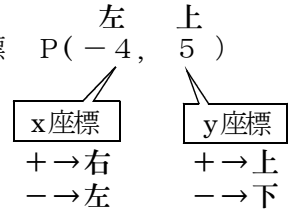


点の取り方NO1



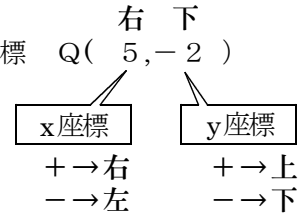
点Pの取り方

①点Pの座標 $P(-4, 5)$

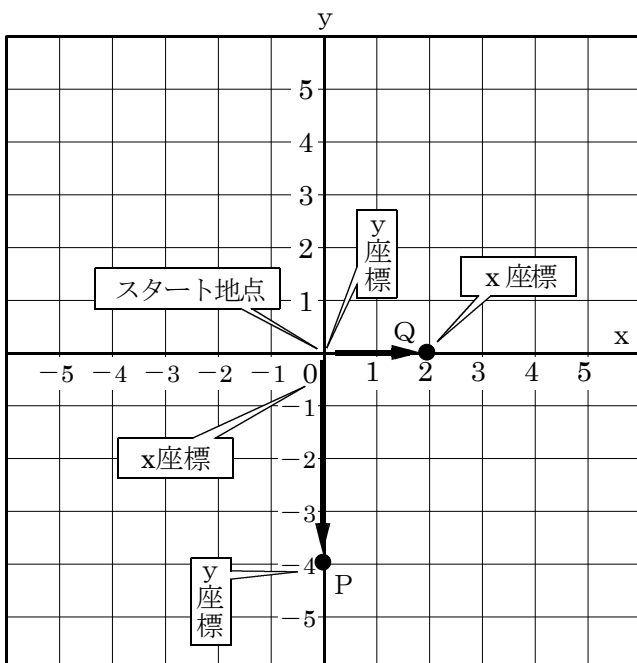


点Qの取り方

①点Qの座標 $Q(5, -2)$

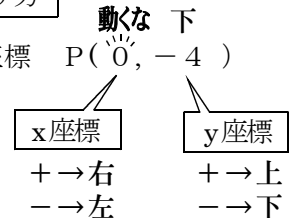


点の取り方NO2



点Pの取り方

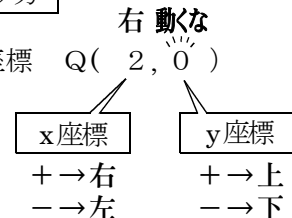
①点Pの座標 $P(0, -4)$



x座標が0のとき点の位置はy軸上のy座標にある。

点Qの取り方

①点Qの座標 $Q(2, 0)$



y座標が0のとき点の位置はx軸上のx座標にある。