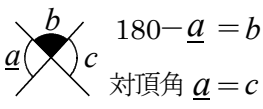


# 図形NO5B 平行な二直線を使った角の大きさの求め方②

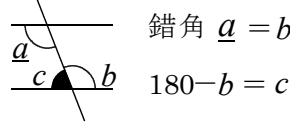
**×印の問題**

基本姿勢 1



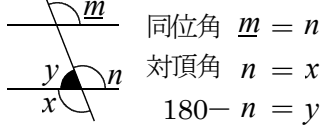
**2直線の内側の角の問題**

基本姿勢 2



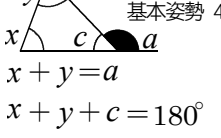
**上下で同じ位置の角の問題**

基本姿勢 3



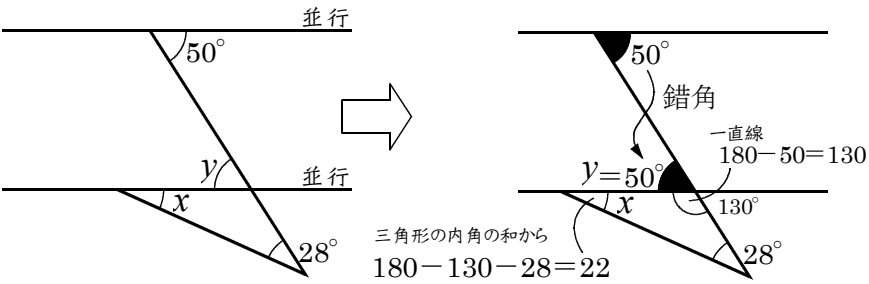
**三角形の外角**

の公式



👁️ 気づいて！置き換えて！求まるところは求めて！基本姿勢計算だ！

**例題 5**



**例題 6**

